

Collège 15 Octobre

El Kabaria

Epreuve : Informatique

Professeur : Mr. BEN YAHIA

Houcine

# Devoir de Synthèse N°1

Année scolaire : 2010/ 2011

Classe : 9 B 4

Durée : 1 heure

Nom : .....

Prénom : .....

Numéro : .....



Date : 04/ 12/ 2010

20

## Partie Pratique


	A	B	C	D	E	F
1						
2		code produit	désignation	prix	qté	qté vendue
3		2	cd-rom	0.22	10000	3495
4		12	dvd-rom	0.34	15000	3211
5		21	disquette	0.28	1000	345
6		45	flash disque	8.2	1200	520
7		32	carte mémoire 512 MO	7.6	500	255
8		23	clavier	7.5	250	220
9		14	souris	5.2	250	152
10		325	ecran	120.5	25	13



- 1) Lancer le logiciel MS Excel et ouvrir le fichier « *Bureau\ 9b4\stock.xls* »
- 2) Enregistrer le fichier sous « *Bureau\ devoir de synthèse \nom et prénom classe.xls* »
- 3) Encadrer le tableau
- 4) Appliquer les mises en forme suivantes sur la ligne entête du tableau :  
**Police** : Tahoma **style** : gras italique **taille** : 14 **couleurs de police** : rose  
**Alignement** : centré
- 5) Changer l'arrière plan de l'entête du tableau
- 6) Appliquer les mises en forme suivantes sur les données du tableau :  
**Police** : Arial black **style** : italique **taille** : 12 **couleurs de police** : bleu  
**Alignement** : droite
- 7) Renvoyer à la ligne les champs de la ligne entête
- 8) Mettre les nombres de la colonne « Code produit » avec 3 chiffres (exemple 001)
- 9) Mettre les nombres de la colonne « Prix » avec 3 chiffres après la virgule.
- 10) Insérer après la ligne « carte mémoire 512 MO », la ligne suivante :

33	Carte mémoire 1GO	12.800	50	13
----	-------------------	--------	----	----

1	2	3	4	5	6	7	8	9	10
2	1	1	2.5	1	2.5	1	1	1	1
....	....	....	....	....	....	....	....	....	....

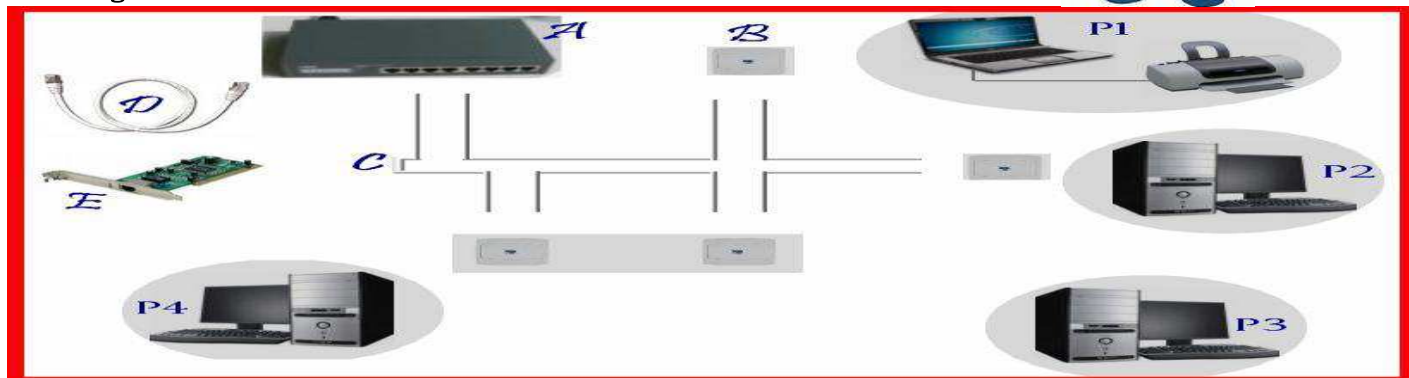


14

## Partie Théorique

### Exercice n° 1 : (2 points)

Soit la figure suivante :



1. Brancher les 4 postes avec l'équipement (A)
2. D'après la figure, dégager une ressource matérielle qu'on peut partager
3. Est-ce qu'on peut brancher 9 postes à l'équipement (A) ? Si non pourquoi ?

### Exercice n° 2 : (2 points)

Compléter le tableau ci-dessous par les mots suivants :

Clavier / CD / flash disque / Webcam / modem / Ecran / scanner / imprimante

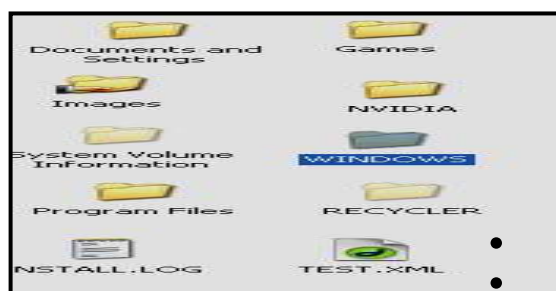
Périphériques d'Entrée	Périphériques de Sortie	Périphériques d'entrée /Sortie
★ .....	★ .....	★ .....
★ .....	★ .....	★ .....
★ .....	★ .....	★ .....

### Exercice n° 3 : (2 points)

a/- Compléter le tableau suivant :

Caractéristiques	Zone Géographique	Débit
Réseau		
Réseau local		
Réseau étendu		

b/- Soit l'arborescence suivante qui se trouve dans le disque local C:\



- Ecrire la nouvelle arborescence de disque local (C :) en se basant sur les modifications suivantes :
- Suppression des dossiers et fichier suivants (*System Volume Information, Recycler, Install.log*)
  - Déplacement des dossiers et fichier suivants (*Nvidia, Games, Document and setting, Test.Xml*) dans (D :).
  - Changement du nom de dossier « *Images* » par « *Photos* »
  - Déplacement dans (C :) le fichier « *Collège.Bmp* » qui se trouve dans (D:)

C:\ :\*/-..... \*/- .....  
 \*/-..... \*/- .....

